

香港真光中學小學部  
二零一二年度第二段考試

二年級 日 班

常識科

成績：C

2013年3月14日

姓名：陳善楠 (5)

考試需時：35分鐘

一. 填充：12%

答案欄

1. 從事社區衛生工作的人員，致力維持公眾衛生，防止 a 傳播。

a. ~~\_\_\_\_\_~~

b. 和 甘 地 合 ✓

2. 搶包山和會景巡遊，都是 b 太平清醮的慶祝活動。

3. 電動玩具一般用乾電池或家用 c 操作。

c. 電 風 扇 ✓

4. 我們要給朋友鼓勵和支持，d 才能長久。

d. ~~\_\_\_\_\_~~

5. 我們在慶祝節日的時候，可以多 e 身邊的人。

e. ~~加~~ ~~心~~

6. 我們平日要做好 f 措施，避免罪案發生。

f. ~~\_\_\_\_\_~~

二. 简答题：9%

1. 我們玩玩具前，可以從哪裏知道正確操作玩具的方法？

看 士 也 ✓

2. 舉出一項警察的工作。

子 交 障 礙 ✓

3. 母親節在每年五月的哪一天？

星 其 月 日 ✓

三. 選擇：12%(只填英文字母)

1. (A.清道夫 B.郵務人員 C.售貨員)負責收集和派發信件。

2. (A.紙蜻蜓 B.電子琴 C.遙控車)是自製玩具。

3. 看見劫案發生，我們應該(A.大聲哭叫 B.立即報警 C.上前制止)。

4. 朋友遇到困難時，我們應該(A.不理會他 B.原諒他 C.幫助他)。

5. 使用(A.鈕型乾電池 B.蓄電池 C.普通乾電池)既環保又省錢。

6. (A.桓景上山避難 B.趕走蒙古人 C.牛郎織女相會)是有關重陽節的傳說。

1. B ✓

2. A ✓

3. B ✓




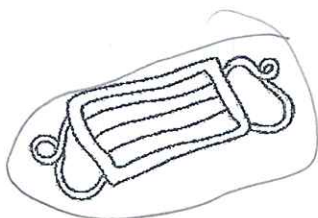

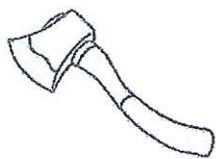
4. C ✓

5. ~~A~~

6. ~~A~~

四. 辨別：8%

以下哪些是醫護人員所需的物品？把它們圈出來。





五.配對：7% (只填英文字母，不可重複使用。)


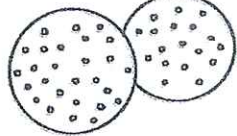
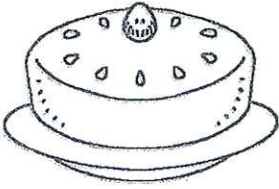




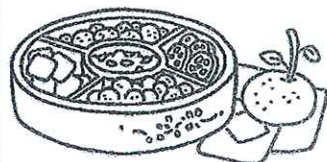
以下的節日會進行哪些活動？

- |       |     |           |
|-------|-----|-----------|
| 1.元旦  | (E) | A.報佳音     |
| 2.清明節 | (F) | B.送康乃馨    |
| 3.母親節 | (B) | C.欣賞煙花匯演  |
| 4.聖誕節 | (C) | D.做彩蛋送給別人 |
| 5.端午節 | (H) | E.倒數      |
| 6.復活節 | (D) | F.掃墓      |
| 7.國慶日 | (G) | G.花車巡遊    |
|       |     | H.賽龍舟     |

六.看圖配對：8% (只填英文字母，不可重複使用。)

以下的賀年物品或習俗有甚麼寓意？

<del>A.象徵好運</del>	<del>B.送舊迎新</del>	<del>C.消除災害</del>	D.大吉大利
E.一家團聚	F.步步高升	G.樣樣俱全	H.金銀滿屋

	煎堆 		
(C)	(H)	(F)	(E)
			
(D)	(B)	<del>(G)</del>	<del>(A)</del>

七. 分類：8% (只填英文字母，不可重複使用。)

以下哪些是中國的傳統節日？哪些是從西方傳入香港的節日？

- |        |        |        |        |
|--------|--------|--------|--------|
| A. 元宵節 | B. 父親節 | C. 復活節 | D. 端午節 |
| E. 七夕節 | F. 萬聖節 | G. 聖誕節 | H. 重陽節 |

中國的傳統節日：A, D, E, H ✓

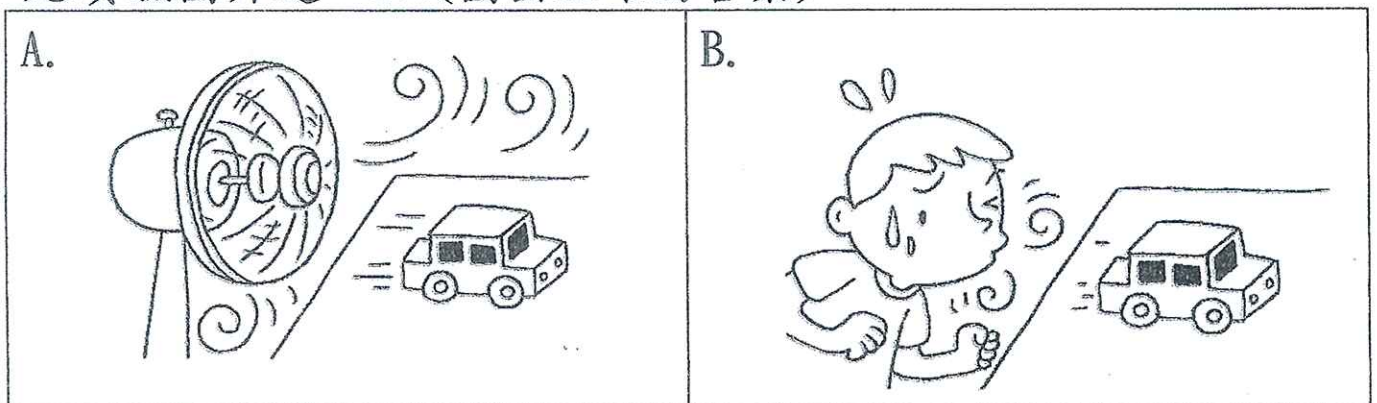
從西方傳入香港的節日：B, C, F, G ✓

八. 判斷：10% (對的用「✓」表示，不對的用「X」表示。)

火警發生了，下列哪些是正確的處理方法？

- 1. 用濕毛巾堵住門縫。
- 2. 應開冷氣，避免過熱。
- 3. 在窗戶揮動大毛巾。
- 4. 立即乘升降機離開。
- 5. 把防煙門打開。
- 6. 從滿佈濃煙的樓梯逃生。
- 7. 以濕毛巾掩鼻。
- 8. 在安全的情況下撥 999 報案。
- 9. 收拾心愛的物品逃生。
- 10. 如無法離開現場，應留在家中等待救援。

九. 實驗圖片題：6% (圈出正確的答案)




- 圖( A / B ) 的玩具車走得較遠。
- 吹出風的方向與玩具車行走的方向( 相同 / 相反 / 沒關係 )。
- 以下甚麼因素與玩具車的行走速度無關？  
( 玩具車的顏色 / 玩具車的重量 / 玩具車的大小 )



十.看圖判斷：8% (對的用「✓」表示，不對的用「X」表示。)  
甲. 以下哪些小朋友比較容易結識朋友？

A.



(✓)

B.




(X)

C.



(X)


D.



(✓)

乙. 以下哪些是救護員的工作？

A.



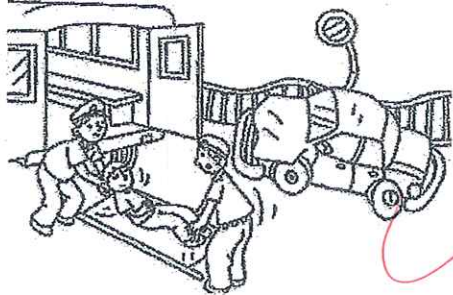
(X)

B.



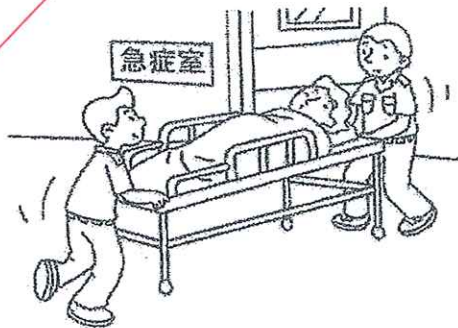
(✓)

C.



(✓)

D.



(✓)

十一. 生活情境題：12%

甲. 一天，偉強把小明借給他的玩具弄壞了，他應該怎樣面對自己的過失？（只填英文字母。）

小明



偉強

- A. 向小明道歉。
- B. 說謊、裝作不知情。
- C. 給予合理賠償。
- D. 承認錯誤。
- E. 不把玩具還給小明。
- F. 躲藏起來。

偉強應該：A, C, D

乙. 根據以下情境，圈出正確的答案。



1. 看到圖中的小朋友的行為，你會怎樣做？  
（和他們一起玩 / 立即通知成年人 / 站在一旁觀看）
2. 你會建議圖中的朋友在這個節日做些甚麼活動？  
（玩花燈 / 放炮竹 / 捉迷藏）
3. 媽媽預備了一些應節食物，你猜籃裏放着甚麼食物？  
（蘿蔔糕 / 月餅 / 巧克力）